

プリント分類


()年 ()月 ()日


算数 (計算問題)


足し算⑨ (一桁＋一桁／繰り上がりなし)


名前: _____


※下の計算をしてみましょう。 正解数 _____ / 10問


①  $2 + 0 = \square$


②  $7 + 1 = \square$


③  $6 + 2 = \square$


④  $5 + 3 = \square$


⑤  $8 + 1 = \square$

⑥  $7 + 2 = \square$

⑦  $6 + 3 = \square$

⑧  $3 + 0 = \square$

⑨  $2 + 2 = \square$

⑩  $5 + 1 = \square$

