




プリント分類 ()年 ()月 ()日
算数 (計算問題)
足し算 【10+(0~10)】⑩


名前: _____


※下の計算をしてみましょう。 正解数 / 10問


①  $10 + 2 = \square$


②  $10 + 8 = \square$


③  $10 + 10 = \square$


④  $10 + 5 = \square$


⑤  $10 + 3 = \square$

⑥  $10 + 9 = \square$

⑦  $10 + 1 = \square$

⑧  $10 + 6 = \square$

⑨  $10 + 4 = \square$

⑩  $10 + 7 = \square$

