

プリント分類

()年 ()月 ()日


算数 (計算問題)


虫食い・穴あき足し算 (一桁＋一桁／繰り上がりなし) ⑥


名前: _____


※下の空欄 (口内に) 数字を入れましょう。

正解数 / 10問


①  $1 + \square = 2$


②  $1 + \square = 3$


③  $1 + \square = 4$


④  $2 + \square = 4$


⑤  $1 + \square = 5$

⑥  $2 + \square = 5$

⑦  $1 + \square = 6$

⑧  $2 + \square = 6$

⑨  $3 + \square = 6$

⑩  $1 + \square = 7$

