

プリント分類

()年 ()月 ()日


算数 (計算問題)

虫食い・穴あき足し算 (一桁＋一桁／繰り上がりあり) ⑥


名前: _____


※下の空欄 (口内に) 数字を入れましょう。


正解数 / 10問


①  $5 + \square = 10$

②  $8 + \square = 11$


③  $9 + \square = 15$

④  $6 + \square = 14$


⑤  $9 + \square = 11$

⑥  $7 + \square = 10$

⑦  $5 + \square = 13$

⑧  $4 + \square = 10$

⑨  $7 + \square = 16$

⑩  $8 + \square = 14$

