




プリント分類 ()年 ()月 ()日
算数 (計算問題)
足し算 (一桁＋一桁／繰り上がりあり) ⑥


名前: _____


※下の計算をしてみましょう。 正解数 / 10問


①  $5 + 5 = \square$


②  $8 + 3 = \square$


③  $9 + 6 = \square$


④  $6 + 8 = \square$


⑤  $9 + 2 = \square$

⑥  $7 + 3 = \square$

⑦  $5 + 8 = \square$

⑧  $4 + 6 = \square$

⑨  $7 + 9 = \square$

⑩  $8 + 6 = \square$

