

プリント分類


()年 ()月 ()日


算数 (計算問題)


足し算⑥ (一桁＋一桁／繰り上がりなし)


名前: _____


※下の計算をしてみましょう。 正解数 _____ / 10問


①  $1 + 1 = \square$


②  $1 + 2 = \square$


③  $1 + 3 = \square$


④  $2 + 2 = \square$


⑤  $1 + 4 = \square$

⑥  $2 + 3 = \square$

⑦  $1 + 5 = \square$

⑧  $2 + 4 = \square$

⑨  $3 + 3 = \square$

⑩  $1 + 6 = \square$

