

プリント分類


( )年 ( )月 ( )日


算数 (計算問題)


足し算⑧ (一桁＋一桁／繰り上がりなし)


名前: \_\_\_\_\_


※下の計算をしてみましょう。 正解数 \_\_\_\_\_ / 10問


①   $1 + 0 = \square$


②   $2 + 1 = \square$


③   $3 + 1 = \square$


④   $4 + 1 = \square$


⑤   $3 + 2 = \square$

⑥   $5 + 1 = \square$

⑦   $4 + 2 = \square$

⑧   $6 + 1 = \square$

⑨   $5 + 2 = \square$

⑩   $4 + 3 = \square$

