

プリント分類

()年 ()月 ()日


算数 (計算問題)


虫食い・穴あき足し算 (一桁＋一桁／繰り上がりなし) ⑩

名前: _____


※下の空欄 (口内に) 数字を入れましょう。


正解数 / 10問


①  $2 + \square = 2$


②  $7 + \square = 8$


③  $6 + \square = 8$


④  $5 + \square = 8$


⑤  $8 + \square = 9$

⑥  $7 + \square = 9$

⑦  $6 + \square = 9$

⑧  $3 + \square = 3$

⑨  $2 + \square = 4$

⑩  $5 + \square = 6$

