

プリント分類

()年 ()月 ()日


算数 (計算問題)


虫食い・穴あき足し算【(10 + (0~10))】⑥


名前: _____


※下の空欄 (口内に) 数字を入れましょう。


正解数 / 10問


①  $10 + \square = 15$


②  $10 + \square = 19$


③  $10 + \square = 12$

④  $10 + \square = 20$

⑤  $10 + \square = 14$

⑥  $10 + \square = 17$

⑦  $10 + \square = 11$

⑧  $10 + \square = 16$

⑨  $10 + \square = 18$

⑩  $10 + \square = 13$

