

プリント分類


( )年 ( )月 ( )日


算数 (計算問題)


足し算⑦ (一桁＋一桁／繰り上がりなし)


名前: \_\_\_\_\_


※下の計算をしてみましょう。 正解数 \_\_\_\_\_ / 10問


①   $2 + 5 = \square$


②   $3 + 4 = \square$


③   $1 + 7 = \square$


④   $2 + 6 = \square$


⑤   $3 + 5 = \square$

⑥   $4 + 4 = \square$

⑦   $1 + 8 = \square$

⑧   $2 + 7 = \square$

⑨   $3 + 6 = \square$

⑩   $4 + 5 = \square$

