




プリント分類 ()年 ()月()日
算数 (計算問題)
足し算 (一桁＋一桁／繰り上がりあり) ⑩


名前: _____


※下の計算をしてみましょう。 正解数 / 10問


①  $9 + 1 = \square$


②  $8 + 5 = \square$


③  $5 + 7 = \square$


④  $7 + 8 = \square$


⑤  $3 + 9 = \square$

⑥  $7 + 7 = \square$

⑦  $8 + 2 = \square$

⑧  $7 + 4 = \square$

⑨  $6 + 9 = \square$

⑩  $6 + 6 = \square$

